




INSTITUCIÓN EDUCATIVA LA MILAGROSA
Sede Santo Tomás de Aquino
Taller de Ciencias Sociales
Grado: segundo- 2025


Nombre: _____

1. Observar, colorear y realizar la actividad que explica la ficha


Actividad

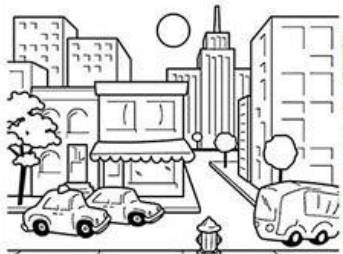
1. Escribe si es paisaje rural o urbano donde corresponda





2. Ubica los elementos que hacen parte de cada paisaje





2. Leer cuidadosamente, recorta y arma de manera coherente el rompecabezas.

En cada comunidad hay elementos diferentes.

Las comunidades pueden ser:

- Comunidad rural
- Comunidad urbana

Comunidad rural

- Al hablar de comunidad rural quiere decir el **campo**.
- Tiene elementos como: animales, plantas y ríos.
- Las personas cultivan: zanahoria, tomates y lechuga.
- Practican actividades como la ganadería y crían cerdos y pollos

- La comunidad rural tiene: caminos de tierra y viven pocas personas.
- Las personas se transportan en: bicicletas y caballos.
- No todas tienen agua potable.



Comunidad urbana

- Al hablar de comunidad urbana quiere decir **ciudad**.
- En las comunidades urbanas puedes encontrar: almacenes y grandes empresas.
- Las comunidades urbanas cuentan con: carreteras y puentes.

- Las comunidades urbanas cuentan con diferentes servicios como: luz, agua, internet y cable.
- Las personas se transportan utilizando: carros, autobuses, barcos, trenes y otros.

3. Elaborar con creatividad la tierra indicando cada una de sus capas.

4. Realiza un escrito corto sobre las clases de señales de tránsito y su importancia.


4. Leer de manera atenta y resolver las actividades planteadas en la ficha.

El relieve

El relieve es la representa las diversas formas que hay en la tierra. Las principales formas de relieve que nos encontramos son:

➤ Lleva los nombres al lugar correspondiente.

- Llanuras
- Mesetas
- Ríos
- Cordilleras
- Sierras
- Montañas
- Mares
- Colinas
- Valles



Transferencia (Momentos de cierre significativo para comprobar si se están alcanzando o se cumplieron los objetivos de aprendizaje)

1. Busca en la sopa de letras los elementos que puedas encontrar en un paisaje natural y en un paisaje cultural.

| | | | | | | | | | |
|---|---|---|---|---|---|---|---|---|---|
| C | H | L | L | A | N | U | R | A | S |
| V | A | N | I | M | A | L | E | S | D |
| L | E | S | M | U | T | M | W | Z | S |
| G | H | O | A | P | Q | A | P | O | M |
| R | V | W | S | S | K | R | I | Y | X |
| C | A | R | R | E | T | E | R | A | S |
| E | T | N | E | U | P | S | O | U | T |
| C | O | M | P | U | T | A | D | O | R |

2. Identifica las siguientes formas de relieve terrestre.

Valle Volcán Mar Meseta Cordillera Río Montaña Costa

